

Avrunda decimaltal

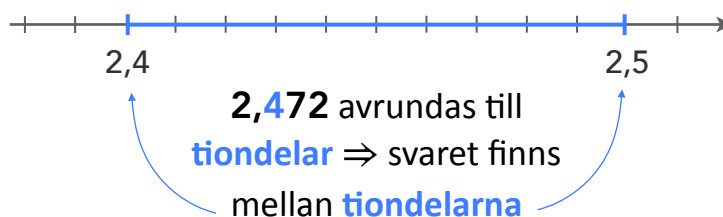
Avrunda 2,472 till tiondelar

ental	tiondel	hundredel	tusendel	tiotusendel
2	4	7	2	
,				

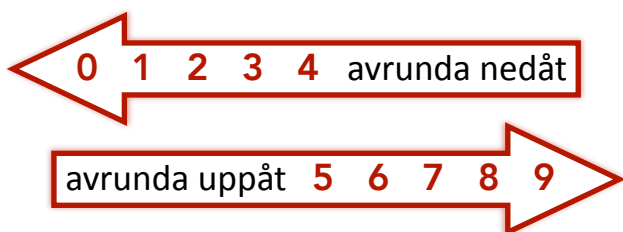
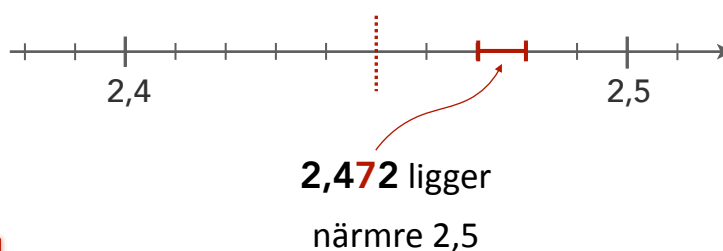
1 Vilken av siffrorna ska vi avrunda?

4:an ska avrundas

2 Mellan vilka två tal på tallinjen finns talet?
Titta på siffran som ska avrundas



3 Vilket av de två talen är närmast?
Titta på siffran till höger om den siffra som ska avrundas



$$2,472 \approx 2,5$$

Avrunda decimaltal

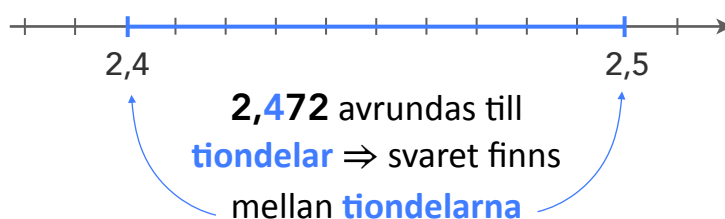
Avrunda 2,472 till tiondelar

ental	tiondel	hundredel	tusendel	tiotusendel
2	4	7	2	
,				

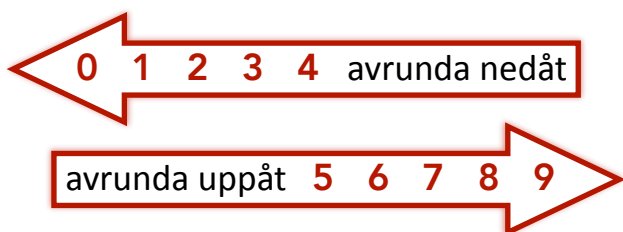
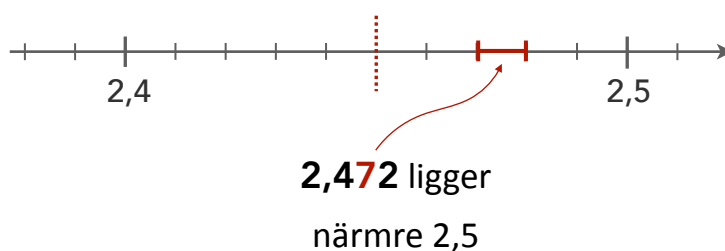
1 Vilken av siffrorna ska vi avrunda?

4:an ska avrundas

2 Mellan vilka två tal på tallinjen finns talet?
Titta på siffran som ska avrundas



3 Vilket av de två talen är närmast?
Titta på siffran till höger om den siffra som ska avrundas



$$2,472 \approx 2,5$$

Avrunda decimaltal

- 1 Vilken av siffrorna ska vi avrunda?



- 2 Mellan vilka två tal på tallinjen finns talet?
Titta på **siffran som ska avrundas**



- 3 Vilket av de två talen är närmast?
Titta på **siffran till höger** om den siffra som ska avrundas

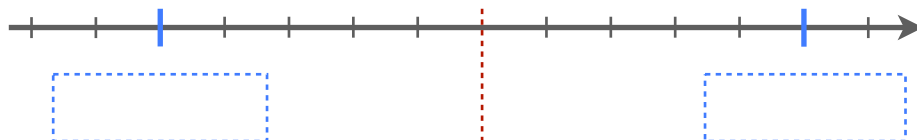


Avrunda decimaltal

- 1 Vilken av siffrorna ska vi avrunda?



- 2 Mellan vilka två tal på tallinjen finns talet?
Titta på **siffran som ska avrundas**



- 3 Vilket av de två talen är närmast?
Titta på **siffran till höger** om den siffra som ska avrundas

