

# Negativa tal på tallinjen

1 Var på tallinjen **startar** vi?

2 Åt vilket **håll** ska vi gå?

→ Addition åt höger

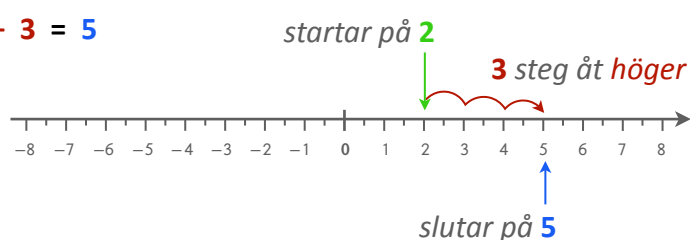
← Subtraktion åt vänster

Hur **många** steg?

3 Var **slutar** vi?

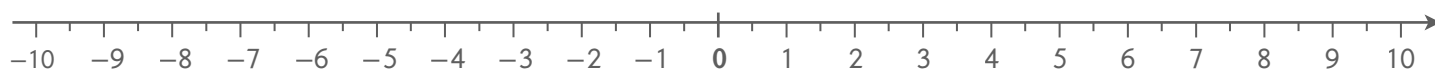
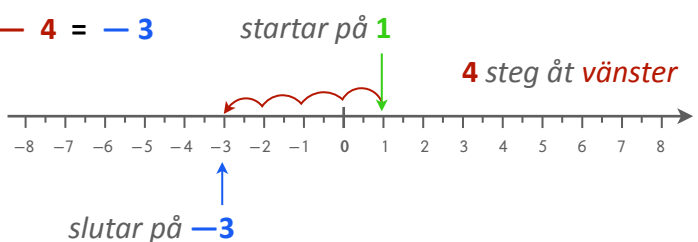
exempel 1

$$2 + 3 = 5$$



exempel 2

$$1 - 4 = -3$$



# Negativa tal på tallinjen

1 Var på tallinjen **startar** vi?

2 Åt vilket **håll** ska vi gå?

→ Addition åt höger

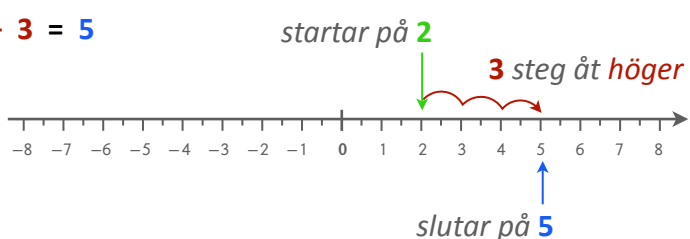
← Subtraktion åt vänster

Hur **många** steg?

3 Var **slutar** vi?

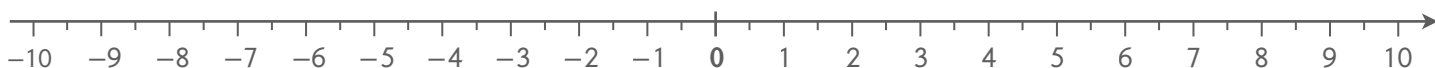
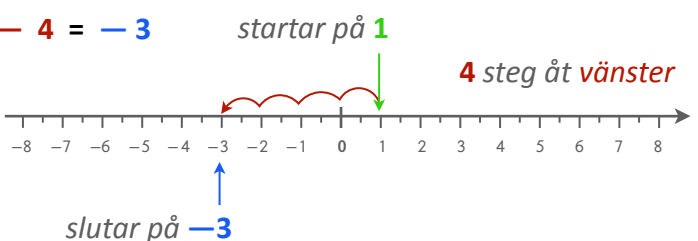
exempel 1

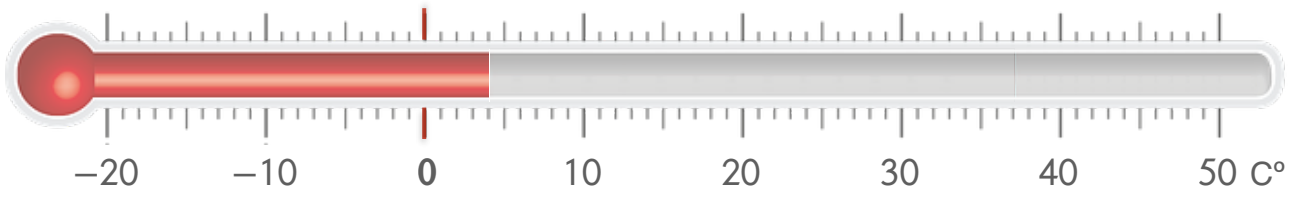
$$2 + 3 = 5$$



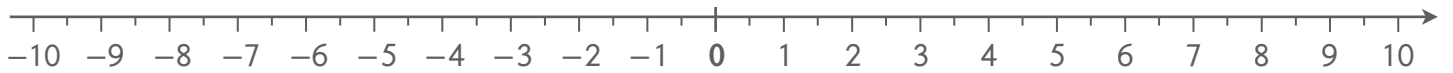
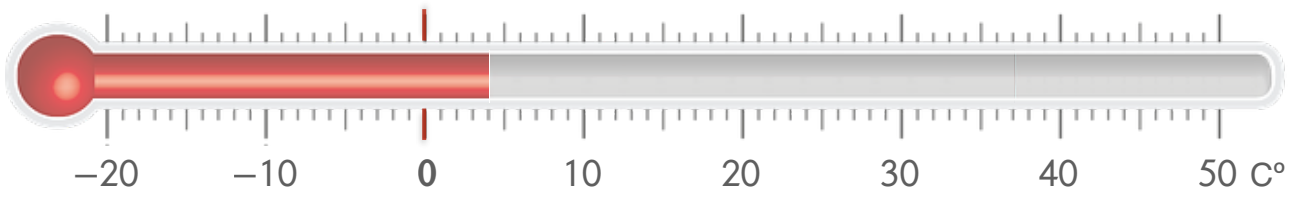
exempel 2

$$1 - 4 = -3$$





+	+	<i>blir</i>	+
+	-	<i>blir</i>	-
-	+	<i>blir</i>	-
-	-	<i>blir</i>	+



+	+	<i>blir</i>	+
+	-	<i>blir</i>	-
-	+	<i>blir</i>	-
-	-	<i>blir</i>	+